

موقع عيون البصائر التعليمي

الجمهورية الجزائرية الديمقراطية الشعبية

ثانوية الشريخ بوعمامة
الأبيض سيدي الشريخ
دورة: ماي 2022
المدة: 04 ساعات و 30 د



وزارة التربية الوطنية
امتحان بكالوريا التجريبي التعليم الثانوي
شعبة: آداب وفلسفة
اختبار في مادة: التاريخ والجغرافيا

على المترشح أن يختار أحد الموضوعين التاليين

الموضوع الأول التاريخ

الجزء الأول: 06 نقاط

" عرفت شوارع العاصمة والعديد من المدن الجزائرية الأخرى يوم 11 ديسمبر 1960 نزول الشعب الجزائري في **مظاهرات** للإعلان عن رغبته في نيل الاستقلال وتدعيمه المطلق **للكفاح المسلح**، فكان ذلك بمثابة البركان الشعبي الثائر الذي نسف وهم الاستعمار في فصل الشعب عن **جبهة التحرير الوطني** ... "

مجلة الجيش ديسمبر 1997 العدد 413

1- اشرح ما تحته خط في النص.

2 - عرف بالشخصيات التالية: احمد مصالي الحاج - جاك سوستيل - هاري ترومان.

3 - أكمل الجدول التالي:

التاريخ	الحدث
28 جانفي - 4 فيفري 1957	
	وفاة جوزيف ستالين
18 - 24 أبريل 1955	

الجزء الثاني: 04 نقاط

الحرب الباردة صراع أمريكي - سوفيتي مسرحه العالم الثالث الذي مازال يدفع فاتورة اصطدام المصالح الإيديولوجية والاقتصادية بين قطبي هذا الصراع.

المطلوب: انطلاقا من الفقرة واعتمادا على ما درست أكتب مقالا تاريخيا تبرز فيه:

1 - العوامل التي جعلت العالم الثالث مسرحا لهذا الصراع.

2 - موقف دول العالم الثالث من هذا الصراع.

الجغرافيا

الجزء الأول: 06 نقاط

" ليس الوطن العربي غنيا بعكس ما هو شائع ف **الناتج الداخلي الخام** للبلدان العربية والمقدر ب 550 مليار دولار يقل عن دخل بلد واحد مثل إسبانيا الذي يقدر ب 600 مليار دولار. **متوسط الدخل الفردي** السنوي العربي للفرد الواحد، هو نصف المعدل العالمي. صادرات الدول العربية مجتمعة من المحيط إلى الخليج خارج المحروقات (وعدد سكانها 284 م / ن) أقل من صادرات بلد مثل فنلندا وعدد سكانه 5 م / ن .. يترجم الوطن العربي من **الإصدارات السنوية** أقل مما يترجمه بلد مثل اليونان بخمس مرات، وهو الذي لا يتعدى عدد سكانه 11 م / ن .. "

لثمة رئيس الجزائر السابق ع / بوتغليقة في قمة بلدان 5+5 في 05/12/2005

1 - اشرح ما تحته خط في النص.

2 - إليك جدولا يمثل نسب إنتاج واستهلاك بعض الدول للغاز الطبيعي لسنة 2016

الدول	النسبة % الإنتاج	النسبة % الاستهلاك
الولايات المتحدة الأمريكية	22	8,22
روسيا	1,16	2,11
إيران	4,5	5,5
كندا	6,4	1,3
الصين	9,3	7,5

المصدر: مجلة أرقام. الإمارات العربية تقرير 2017

أ - ترجم معطيات الجدول إلى أعمدة بيانية بمقياس: 1 سم = 2 % . 1 سم = عمود
ب - على خريطة العالم المرفقة وقع ثلاث دول واردة في الجدول.

الجزء الثاني: 4 نقاط

أولت دول شرق وجنوب شرق آسيا أهمية بالغة للاستثمار في للعنصر البشري ما ساهم في إحداث تغييرات جذرية في المنطقة وجعلها تتحول إلى قطب اقتصادي عالمي ينافس الأقطاب التقليدية.
المطلوب: انطلاقا مما درست اكتب مقالا جغرافيا تبين فيه :
1 - دور العنصر البشري في تحول المنطقة إلى قطب اقتصادي عالمي.
2 - مكانة المنطقة في الاقتصاد العالمي.

انتهى الموضوع الأول

الموضوع الثاني
التاريخ

الجزء الأول: 6 نقاط

"...حدثت تقريبا كل **الأزمات الدولية** بين الكتلة الشرقية و **الكتلة الغربية**، على الساحة الآفرو آسيوية وأمريكا اللاتينية، من الحرب الكورية إلى أزمة قناة السويس، إلى استعراض العضلات في كوبا، ولم تغلت من الاختراق والاستخدام التوجيهي سوى القليل من **حركات التحرر الوطني**..."
د/ محمد العربي ولد خليفة: الجزائر والعالم

- 1 - عرف ما تحته خط في النص.
- 2 - عرف الشخصيات التالية: بن يوسف بن خدة . ميخائيل غورباتشوف . جمال عبد الناصر
- 3 - استخراج الأزمات الدولية من النص ووقعها على خريطة العالم المرفقة.

الجزء الثاني: 04 نقاط

نشطت الحركة الوطنية الجزائرية بعد الحرب العالمية الثانية في الفترة الممتدة ما بين 1945-1954، وتبلور التوجه الاستقلالي فكريا وعملا.
المطلوب: انطلاقا من الفقرة واعتمادا على ما درست اكتب مقالا تاريخيا تبرز فيه:
1 - مظاهر تبلور الفكر الاستقلالي في الجزائر.
2 - المحطات الرئيسية لتحضير الثورة.

الجغرافيا

الجزء الأول: 06 نقاط

((... يمثل الاتحاد الأوروبي **قطبا اقتصاديا** بدأ يتشكل بعد الحرب العالمية الثانية... وهكذا بدأ الأوروبيون في الخمسينيات في إنشاء سوق مشتركة، فمن **معاهدة روما** الشهيرة، فسوق أوروبية موحدة، فاتحاد اقتصادي ونقدي ضمن معاهدة ماستريخت وبذلك تكون التحالفات الاقتصادية في أوروبا سوقا موحدة تضم 337 مليون نسمة... لكن مجموع **ناتجها القومي الإجمالي** أكبر بكثير من مثيله بالوم أ، وإذا ما التحقت بقية وسط أوروبا وشرقها فإنها يمكن تنشئ سوقا تضم حوالي 850 مليون نسمة...))
محمد عبد الدايم: الصراع الاقتصادي... إلى أين ؟

- 1 - اشرح ما تحته خط في النص.
- 2 - إليك جدول يمثل نسب مساهمة بعض الدول في الصادرات العالمية للأرز موسم 2018 / 2019.

الدول	الهند	تايلاند	الفيتنام	باكستان	الوم أ	الصين
النسبة %	30.1	22.7	09	8.2	6.9	3.6

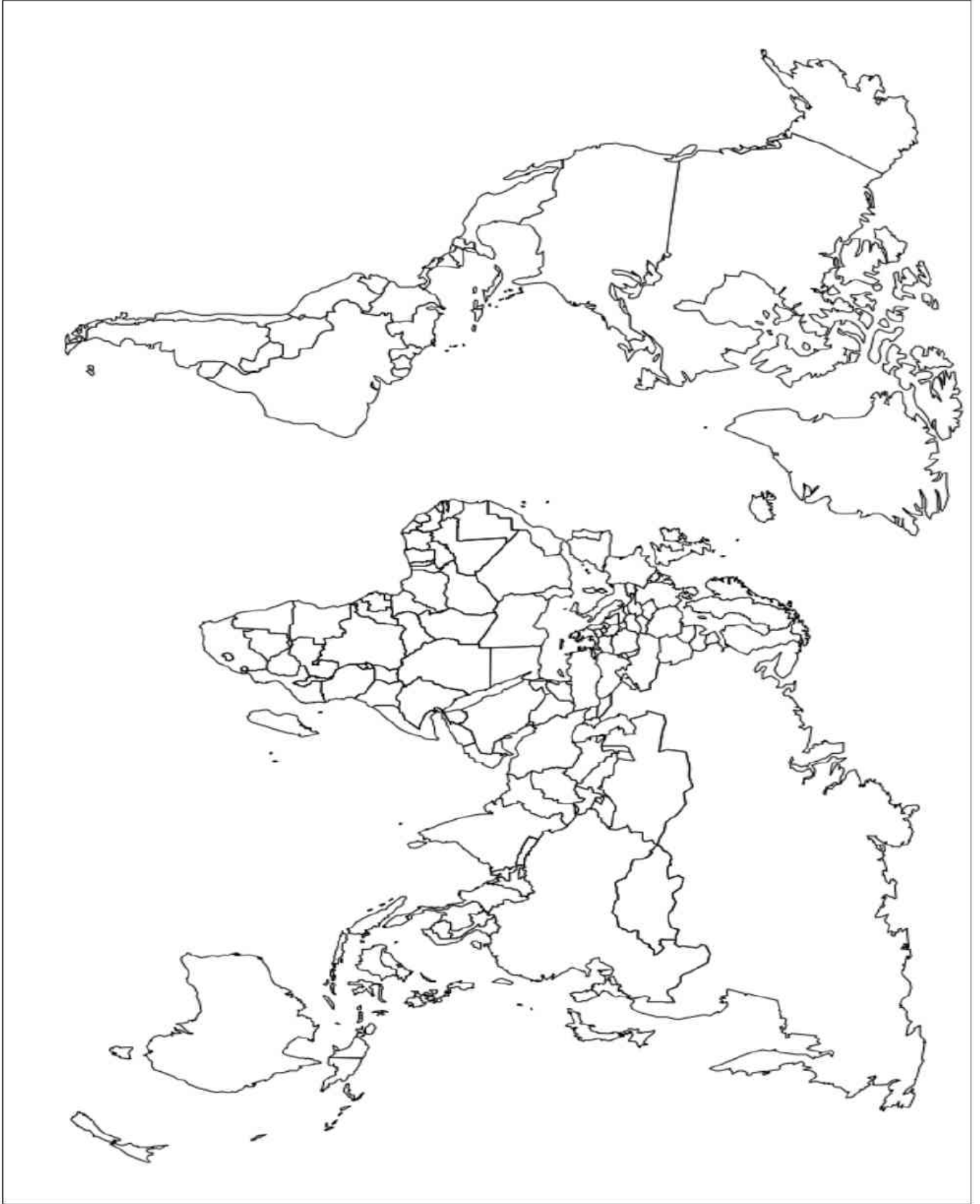
المصدر: مواقع متخصصة 2019

- أ - مثل نسب الجدول بواسطة دائرة نسبية نصف قطرها 3 سم.
- ب - علق على الرسم.

الجزء الثاني: 04 نقاط

ان عالم اليوم يشهد تزايدا كبيرا في الإنتاج والاستهلاك مما أدى الى تنوع المبادلات التجارية والتدفقات المالية والتنقلات البشرية والتي خضعت في مجملها لهيمنة أقطاب وقوى اقتصادية عالمية.
المطلوب: من خلال الفقرة ومارست اكتب مقالا جغرافيا تبرز من خلاله:
1 - العوامل المتحكممة في أسواق الطاقة العالمية (البترو).
2 - الحلول التي وضعتها الدول المصدرة للنفط للحد من سيطرة الدول الكبرى عليه.

انتهى الموضوع الثاني


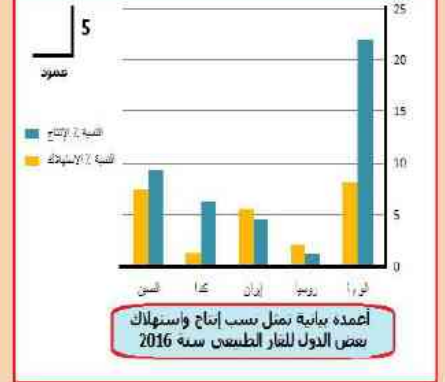


ينجز العمل المطلوب على الخريطة المرفقة و تعاد مع أوراق الإجابة

الموضوع الاول

0.75	المظاهرات: تشكل من أشكال النضال السلمي وهي مسيرات شعبية يخرج فيها الشعب إلى الشارع بهدف إعلانه عن رفض السياسة الاستعمارية وتأييده لجهة التحرير الوطني. .	مصطلحات
0.75	الكفاح المسلح: مجموعة العمليات العسكرية والفدائية التي قام بها الثوار الجزائريون داخل وحارج الجزائر في الفترة الممتدة بين 1954/1962 والتي انتهت بتحقيق الاستقلال.	
0.5	جبهة التحرير الوطني: تنظيم سياسي ثوري (الجناح السياسي للثورة) ظهر سنة 1954 مواكب لاندلاع الثورة وتعتبر الممثل الشرعي والوحيد للشعب الجزائري تهدف إلى تحرير الجزائر من الاستعمار.	
0.75	مصالي الحاج: سياسي جزائري ، زعيم التيار الاستقلالي ، مؤسس حزب نجم شمال إفريقيا 1926 ثم حزب الشعب الجزائري 1937 ثم حركة انتصار الحريات الديمقراطية 1946.	شخصيات
0.75	حاك سوستيل: سياسي فرنسي ، عين واليا عاما على الجزائر سنة 1955 صاحب مشروع سوستيل 1955، دافع عن الجزائر فرنسية وسياسة الإدماج عينه دبعول سنة 1958 بوزارة الإعلام ثم الوزارة المتتدية للصحراء.	
0.5	هاري ترومان: رئيس أمريكي ، صاحب مبدأ ترومان 1947، الأمر بإطلاق قبيلتي هيروشيما وناغازاكي على اليابان مؤيد الهجرة اليهودية إلى فلسطين تميز بتعضه وشدده للمعسكر الرأسمالي.	
0.75		جدول
0.75	التاريخ	
0.5	الحدث	
0.5	إضراب ثمانية أيام	28 حانفي - 4 فيفري 1957
0.5	وفاة جويرف ستالين	5 مارس 1953
0.5	انعقاد مؤتمر باندونغ	18 - 24 أبريل 1955
0.5	منااسبة ... تعريف الحرب الباردة.	المقدمة
1.5	1 - العوامل التي جعلت العالم الثالث مسرحا لهذا الصراع: - الموقع الاستراتيجي لدول العالم الثالث. - ضخامة الموارد الاقتصادية التي تتوفر عليها. - اعتبار العالم الثالث سوقا تجارية هامة. - ضعف الورن السياسي والعسكري لدوله حديثة السنه - سياسة الاحتواء والاستقطاب وملء الفراغ المنتهجة من قبل الكتلتين	العرض
1.5	2 - موقف دول العالم الثالث من هذا الصراع: - رفض سياسة الصراع والتأزيم. - معارضة بناء القواعد والاحلاف العسكرية وسباق التسلح. - تبني سياسة الحياد الايجابي في إطار (بانودنغ) - تأسيس حركة عدم الانحياز كعيار ثالث ف العلاقات الدولية. - مناصرة سياسة التعايش السلمي بين المعسكرين.	
0.5	ساهمت جهود ومواقف العالم الثالث من الصراع في إنهائه.	الخاتمة

الجغرافيا

0.75	الناتج الداخلي الخام: قيمة ما تنتجه مختلف القطاعات الاقتصادية داخل البلد الواحد خلال سنة.	مفاهيم
0.75	متوسط الدخل الفردي: قيمة ما يحصل عليه الفرد في الدولة من دخل خلال سنة ويحسب بقسمة الدخل المحلي على عدد السكان وهو نسبي يكون مرتفع أو منخفض حسب عدد السكان وقيمة الدخل المحلي.	
0.5	الإصدارات السنوية: مجمل الكتب والأبحاث من مصادر ومراجع والتي يتم نشرها سنويا من طرف مختلف دور النشر.	
2		التمثيل
2	  <p>التمثيل البياني: - الانحياز : 1.5 ن - المفتاح : 0.25 ن - العنوان: 0.25 ن</p> <p>أعمده بيانية تمثل نسب إنتاج واستهلاك بعض الدول للغار الطبعي سنة 2016</p>	
0.5	تقديم	دول شرق و جنوب شرق آسيا مكانة اقتصادية متقدمة يصنعها الاستثمار في العنصر البشري.
1.5	1- دور العنصر البشري في تحول المنطقة إلى قطب اقتصادي عالمي: - وفرة اليد العاملة الخبيرة والرخيصة. - طبيعة الفرد (العمل، الإلتقان، الإخلاص، السرعة، الانفتاح). - تدفق رؤوس أموال المهاجرين و العمالة المتنقلة.	العرض
1.5	2- المكانة الاقتصادية للمنطقة في الاقتصاد العالمي: - أحد أقطاب التالوت الاقتصادي العالمي. - المساهمة بنسبة مرتفعة في التجارة العالمية 37 %. - احتلال المراتب الأولى في الصناعات خاصة الالكترونية.	
0.5	نجاح دول المنطقة يعود إلى حسن استغلال العنصر البشري.(تقبل كل خاتمة وظيفية)	الخاتمة

0.75 0.75 0.5	الازمات الدولية: يؤر تور نتيجة تصادم مصالح بين دولتين أو أكثر أدت الى تأزم في العلاقات الدولية مثل أزمات :برلين ,كوريا ,لنوبا الكتلة الغربية: مجموع الدول المطيقة للراسمالية والتي تحالفت مع الوم الامريكية اثناء الحرب الباردة. الكفاح التحرري: رد فعل شعبي في المستعمرات لاسترجاع السيادة اتخذت عدة أشكال سياسية أو عسكرية أو معا رفضا للاستعمار	مصطلح
0.75 0.75 0.5	بن يوسف بن خدة: عضو حزب الشعب و حركة الانتصار وقائد المركزيين انضم إلى الجبهة ليصبح 2 رئيس للحكومة الجزائرية المؤقتة. ميخائيل غورباتشوف: عضو الحزب الشيوعي ورئيس أ السوفييتي انتهج سياسة الاصلاح "البرسترويكا" ووقع علي مؤتمر مالطا 1989 جمال عبد الناصر: احد الضباط الاحرار ورئيس مصر 1954 الى 1970 أمم قناة السويس ،من أبرز مؤسسي ح ع الانحياز دعم قضايا التحرر العربية للجزائرية وفلسطين.	شخصيات
2	الأزمات الدولية: • أزمة كوريا 0.5. • قناة السويس 0.5. • أزمة كوبا 0.5. العنوان: 0.5.	التوقيع
0.5	تدور الإشكالية حول نشاط الحركة الوطنية بعد الح ع 2 بين العمل السياسي وتبلور الفكر الاستقلالي	المقدمة
1.5	1- مظاهر تبلور الفكر الاستقلالي: - التأكد من عدم النضال السياسي بعد مجازر 8 ماي 1945. - رفض القانون الخاص (دستور 1947). - إنشاء المنظمة الخاصة 1947 وحثمية الكفاح المسلح. - أزمة حركة الانتصار للحريات الديمقراطية 1953 والتوجه نحو العمل الثوري.	العرض
1.5	2- المحطات الرئيسية لتحصير الثورة: - ميلاد اللجنة الثورية للوحدة والعمل 23 مارس 1954. - اجتماع 22 يوم 23 جوان 1954. - اجتماع لجنة السنة وتقسيم التراب الوطني إلى خمس مناطق 23 أكتوبر 1954. - ميلاد جبهة التحرير الوطني وجيش التحرير الوطني.	العرض
0.5	الكفاح المسلح طريق لاستعادة السيادة الوطنية.	الخاتمة

الجغرافيا

1 1 1	قطبا اقتصاديا: قوة اقتصادية عالمية تساهم مساهمة كبيرة في التجارة العالمية ولها القدرة على السيطرة على الأسواق. معاهدة روما: معاهدة موقعة في 03. 25 1957. من قبل فرنسا ,ايطاليا ,ألمانيا غ ,بلجيكا ,هولندا ,لوكسمبورج نص على إنشاء السوق الأوروبية المشتركة ومقرها بروكسل بلجيكا وقد انضمت إليها دول أوروبية أخرى. ناتجها القومي الإجمالي: حملة الدخل الذي تحققة عوامل الإنتاج فيها إضافة إلى تحويلات العمال المهاجرين وعائدات الاستثمارات.	مفاهيم
2 1	أ - الدائر النسبية: • التحويل : الهند ($30.1 * 3.6 = 108.3$) 0.5 ن - الانحياز : 1 ن - المفتاح : 0.25 ن - العنوان : 0.25 ن ب - التعليق: 1 ن . ونيقة جغرافية لاعمدة تتعلق بصادرات الارز عند بعض الدول سنة 2019 - يلاحظ ان اغلب الدول المصدرة هي دول اسيوية لتوفرها على الظروف الطبيعية والبشرية المساعدة ولانه غذاء اساسي لاغلب سكانها. - الومرا من اهم الدول المصدرة للارز لانه يحقق لها مداخيل معتبرة ووسيلة ضغط على الدول المتخلفة . الارز مادة غذائية استراتيجية مطلوبة في الاسواق	التوقيع
0.5	العوامل المتحكممة في أسعار البترول والحلول التي وضعتها الدول المصدرة للنفط للحد من سيطرة الدول الكبرى عليها.	المقدمة
1.5	1 - العوامل المتحكممة في أسواق الطاقة: - قانون السوق (العرض والطلب). - سياسات الدول المصدرة (دور الاوبيك وتماسكها). - وضع الإقتصادي العالمي خاصة الأمريكي. - تأثير الأوضاع السياسية (أزمات ,حروب قرب مناطق الإنتاج ...).	العرض
1.5	2 - الحلول التي وضعتها الدول المصدرة للنفط للحد من سيطرة الدول الكبرى عليه: - تأسيس منظمة الاوبيك في 1960 لمواجهة احتكارات الشقيقات 7 ذلك عن طريق: - توحيد السياسات النفطية للدول الأعضاء. - حماية مصالح الدول المنتجة بضمان لدخل ثابت و استقرار الأسعار. - معارضة احتكارات الشركات متعددة الجنسيات. - تدعيم التبادل الفتي و التكنولوجي في مجال التنقيب والاستخراج و التسويق بين الدول الأعضاء.	العرض
0.5	البترول ثروة زائلة غير متجددة ينبغي استغلالها استغلالا عقلانيا	الخاتمة

